

47都道府県と地方区分

年 組 番
名 前

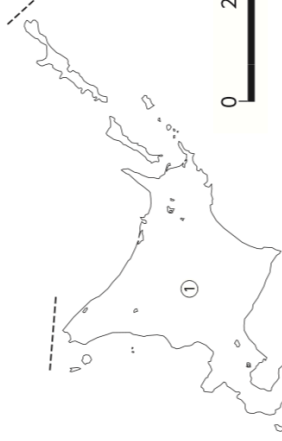
●やってみよう

- (1) 地図帳を見て、下の地図のあなたが住んでいる都道府県に赤色をぬり、都道府県名を表（地図の番号と同じ番号のところ）に書きましょう。→p.174
- (2) 下の地図のあなたが住んでいる地方のほかの都道府県に青色をぬり、その名前を表に書きましょう。
- (3) 下の地図のその他すべての都道府県名を表に書きましょう。

地方	番号	都道府県名	都道府県庁所在地	おもな伝統的工芸品
北海道	①			
	②			
東北地方	③			
	④			
	⑤			
	⑥			
	⑦			
関東地方	⑧			
	⑨			
	⑩			
	⑪			
	⑫			
	⑬			
	⑭			

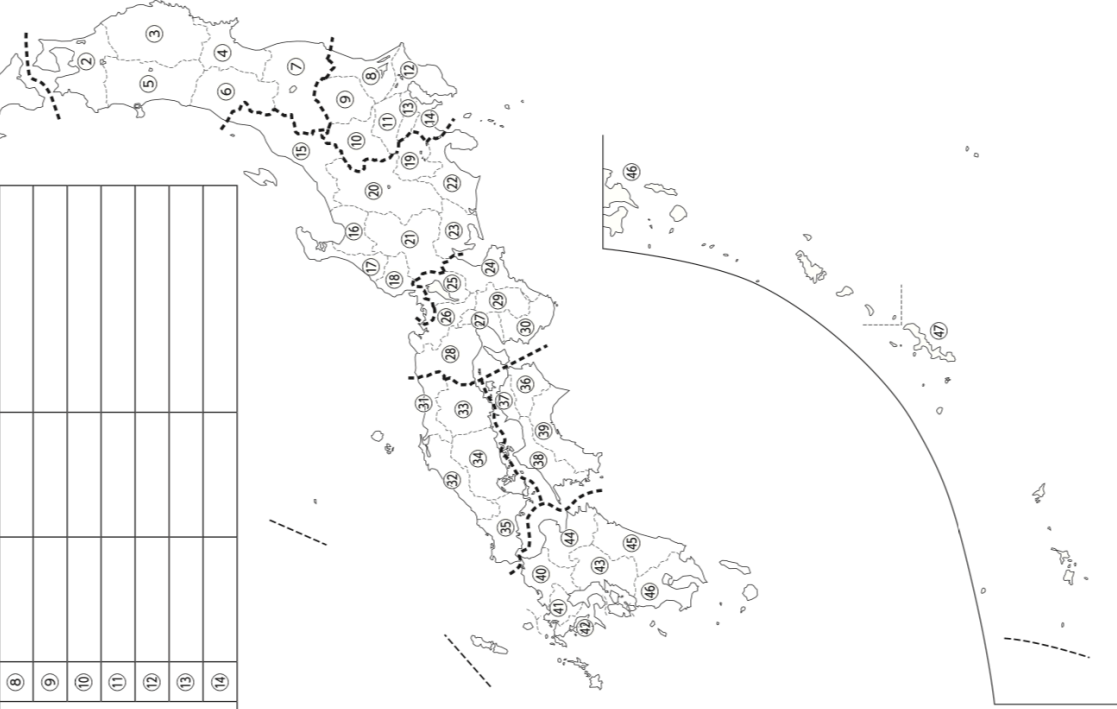
●チャレンジ

- (1) 都道府県庁所在地をすべて表に書いてみましょう。
- (2) 地図帳の「都道府県別の統計」ページから、その都道府県のおもな伝統的工芸品を探して、見つけたものの名前を表に一つ書いてみましょう。→p.164



0 200km

地方	番号	都道府県名	都道府県庁所在地	おもな伝統的工芸品
中部地方	⑮			
	⑯			
	⑰			
	⑱			
	⑲			
	⑳			
	㉑			
	㉒			
	㉓			
	㉔			
近畿地方	㉕			
	㉖			
	㉗			
	㉘			
	㉙			
	㉚			
	㉛			
	㉜			
	㉝			
	㉞			
中国地方	㉟			
	㊱			
	㊲			
	㊳			
	㊴			
四国地方	㊵			
	㊶			
	㊷			
	㊸			
	㊹			
九州地方	㊺			
	㊻			
	㊼			
	㊽			
	㊾			
	㊿			
	㊿			



●やってみよう

地図帳を見ながらゲームをしましょう。→p.174

〈ゲームの進め方〉

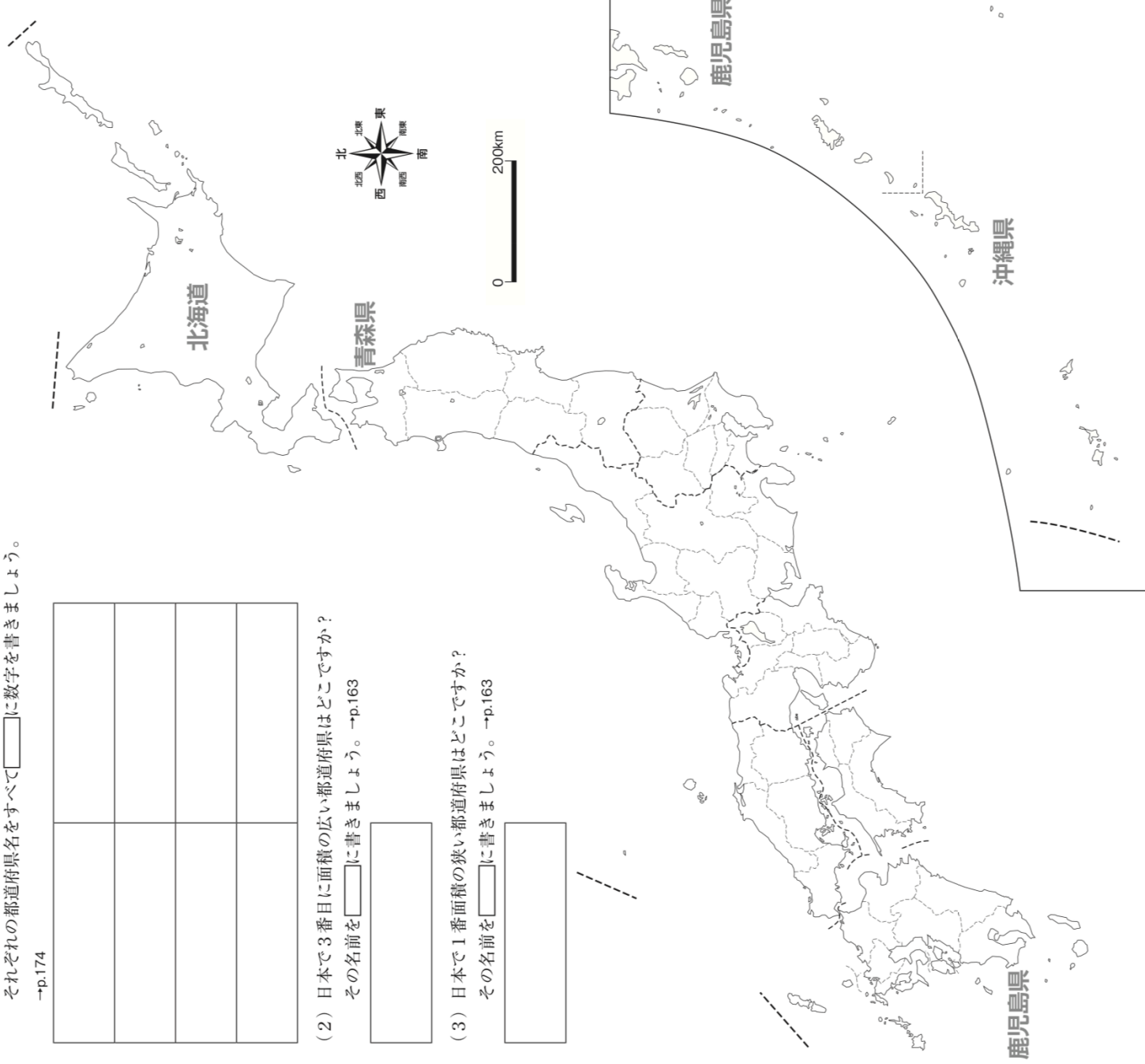
- ① 2人1組になり、それぞれ自分の色を一つ決めましょう。
- ② 北海道と沖縄県どちらかを選び、道・県の名前を○で囲み、自分の色をぬります。
- ③ ジャankenをし、勝った人は、自分の色となり海に面している都道府県を選び、名前を書き、自分の色をぬっていきます。
- ④ より多くの都道府県名を書き、自分の色をぬった人が勝ちです。

●チャレンジ

- (1) 日本には海に面していない都道府県が八つあります。
それぞれの都道府県名をすべて□□に数字を書きましょう。
→p.174

- (2) 日本で3番目に面積の広い都道府県はどこですか？
その名前を□□に書きましょう。→p.163

- (3) 日本で1番面積の狭い都道府県はどこですか？
その名前を□□に書きましょう。→p.163



●やってみよう

さくらさんは、宝物のある都道府県にかくしました。次の文を読み、さくらさんが宝物をかくした都道府県を考え、地図中のその場所に名前を答え、青色をぬりましょう。→p.164, p.174

- ① 中部地方にあります。
- ② 五つの都県に接しています。
- ③ ぶどうとももがたくさん採れて、日本一高い山の富士山があります。

●チャレンジ

地図帳を見ながら、さくらさんの文を参考にあなたも都道府県に関する問題をつくりましょう。そして、友だちと問題を出し合い、その都道府県に色をぬりましょう。

- (1) ① () 地方にあります。
 ② そこは、() に接しています。
 ③ ()

- (2) ① () 地方にあります。
 ② そこは、() に接しています。
 ③ ()

- (3) ① () 地方にあります。
 ② そこは、() に接しています。
 ③ ()

